

TÜM DERSLER SORU BANKASI



- + TÜRKÇE
- + MATEMATİK
- + FEN BİLİMLERİ
- + SOSYAL BİLGİLER
- + DİN KÜLTÜRÜ VE AHLAK BİLGİSİ
- + İNGİLİZCE

İSLEYEN
ZEKA



5

SINIF

SOSYAL BİLGİLER

Birey ve Toplum

Kültür ve Miras

İnsanlar, Yerler ve Çevreler

Bilim, Teknoloji ve Toplum

Üretim, Dağıtım ve Tüketim

Etkin Vatandaşlık

Küresel Bağlantılar



1. Aşağıdaki öğrencilerden hangisi sosyal bilgiler dersinin faydalarıyla ilgili yanlış bir bilgi vermiştir?

- A)  Tarihimizi tanımamıza yardımcı olur.
- B)  Ülkemizi ve dünyamızı tanımamızı sağlar.
- C)  İnsan haklarına saygılı olmamızı öğretir.
- D)  Sayısal becerilerimizin gelişmesini sağlar.

2. Ulusal bilincimizin gelişmesi, ulusal egemenlik ve demokrasi kavramlarının öğrenilmesi ---- dersi sayesinde gerçekleşmektedir.

Yukarıdaki panoda boş bırakılan yer hangisiyle tamamlanmalıdır?

- A) İngilizce B) Matematik
C) Sosyal bilgiler D) Türkçe

3. • Vatanına ve milletine bağlı olur.
• Tarihini ve kültürünü tanır.
• İnsan haklarını öğrenir.
• Hesap yapma yeteneği gelişir.

Yukarıda verilenlerden kaç tanesi sosyal bilgiler dersi alan bir bireyin kazanabileceği özellikler arasındadır?

- A) 1 B) 2 C) 3 D) 4

4. Sosyal bilgiler dersi alan bir bireyle ilgili olarak;

- I. sorumluluklarını bilme,
II. ülkesini tanıma,
III. çevre koruma bilinci geliştirme

gibi özelliklerinden hangilerine sahip olduğu söylenebilir?

- A) Yalnız I. B) I ve II.
C) II ve III. D) I, II ve III.

5. Aşağıdaki öğrencilerden hangisinin sosyal bilgiler dersi aldığı, söylediği söze bakılarak anlaşılamaz?

- A)  Atatürk'ü tanıyorum.
- B)  Hak ve sorumluluklarımı biliyorum.
- C)  Çocukların neden çok hastalandıklarını biliyorum.
- D)  Tarihimi ve kültürümü tanıyorum.

6. Sosyal bilgiler dersinde farklı bilim dallarının içerikleri yer almaktadır.

Aşağıdaki bilim dallarından hangisi bunlardan biri değildir?

- A) Tarih B) Astronomi
C) Coğrafya D) Vatandaşlık

7.



Niçin sosyal bilgiler öğreniriz?

Öğretmenin sorduğu soruya hangi öğrenci **yanlış cevap vermiştir**?

- A) Hak ve sorumluluklarımızı farkına varmak için
- B) Bizden önce yaşamış olan atalarımızın hayatlarını öğrenmek için
- C) Ülkemizin ve dünyanın güzelliklerini bilmek için
- D) Hastalıklarını ve hastalıklara karşı mücadeleyi öğrenmek için

8.



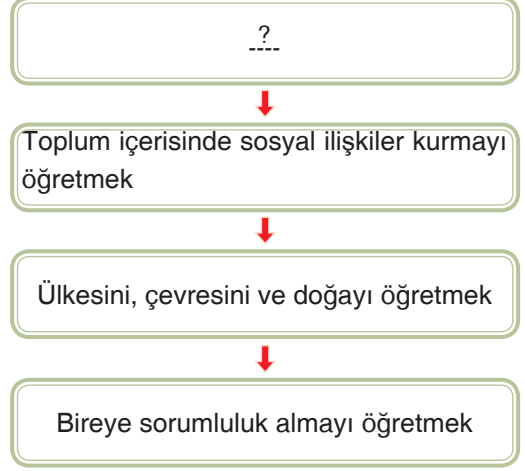
Yusuf

Ben 5. sınıf öğrencisiyim. Derslerimizden bir tanesi de sosyal bilgiler dersi bu derste öğretmenimiz bize birçok konuda bilgi veriyor.

Sosyal bilgiler dersi öğrenen Yusuf'tan aşağıdaki davranışlardan hangisini yapması **beklenmez**?

- A) Vatandaşlık sorumluluklarını yerine getirir.
- B) Çevresinde olan olaylara duyarlı olur.
- C) Kişisel çıkarlarını düşünür.
- D) Sorunlara hak ve sorumlulukları çerçevesinde yaklaşır.

9.



Tabloda soru işareti ile gösterilen yere aşağıdaki başlıklardan hangisi getirilmelidir?

- A) Çevre ve İnsan
- B) Sosyal Bilgilerin Amaçları
- C) Sosyal Bilimlerin İçeriği
- D) Sosyal Bilgilerin Diğer Bilimlerle İlişkisi

10. 5/A sınıfında okuyan Umut'a sosyal bilgiler öğretmeni haritanın ne olduğunu ve ölçek türleri ile ilgili bir araştırma yapmasını söylemiştir.

Buna göre Umut araştırmasını yaparken aşağıdaki bilim dalından hangisinden yararlanmalıdır?

- A) Arkeoloji
- B) Coğrafya
- C) Tarih
- D) Sosyoloji

1. Meydana gelen olaylar detaylı olarak incelendiğinde, olayın ortaya çıkmasında farklı birçok durumun etkili olduğu görülür. Olayların sonuçlarına bakıldığında ise insanların olaylardan farklı şekillerde etkilendiği gözlenir.

Verilen bilgilere bakılarak;

- I. Olayların birden fazla nedeni ve sonucu olabilir.
II. Olaylar çok boyutludur.
III. İnsanlar olaylardan aynı şekilde etkilenirler.

yargılarından hangilerine ulaşılabilir?

- A) Yalnız I. B) I ve II.
C) II ve III. D) I, II ve III.

2. I. Bir olayın birden fazla nedeninin olması,
II. Bir olayın birden fazla sonucunun olması
III. Canlıların olaylardan farklı şekilde etkilenmesi

Yukarıda verilenlerden hangileri olayların çok boyutlu olmasıyla ilgilidir?

- A) Yalnız I. B) I ve II.
C) II ve III. D) I, II ve III.

3. Maddi hasarlı bir trafik kazasında kazayı yapan kişiler ilk sarsıntıyı atlattıktan sonra arabalarının aldığı hasara üzülmüşlerdir. Arabalarını götördükleri ustalar ise yeni iş gelmesinden dolayı sevinmişlerdir.

Parçada anlatılan durumla ilgili aşağıdakilerden hangisi söylenebilir?

- A) Meydana gelen bir olay insanları farklı şekilde etkiler.
B) Olayların sonuçlarının etkisi aynıdır.
C) Meydana gelen olaylara herkes sevinir.
D) Olayların sonuçları aynı olur.

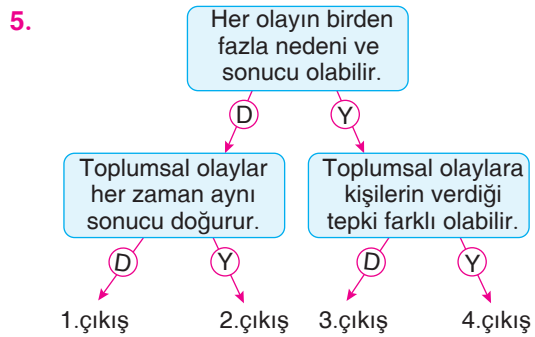
4. Bir mahalleye yapılacak bir okul o çevrede eğitimi etkiler, yeni iş kollarının gelişmesini sağlar, insanların sosyal yaşamını etkiler.

Verilen bilgilere bakılarak;

- I. Bir olay farklı olayların oluşmasını etkiler.
II. Mahallede gerçekleşen olaydan insanlar etkilenmez.
III. Okullar eğitimi olumsuz etkiler.

yargılarından hangilerine ulaşılabilir?

- A) Yalnız I. B) I ve II.
C) II ve III. D) I, II ve III.



Verilen bilgileri doğru değerlendirerek oklar yönünde ilerlettiğimizde hangi çıkışa ulaşırız?

- A) 1. çıkış B) 2. çıkış
C) 3. çıkış D) 4. çıkış

6. Rize’de meydana gelen sel sonucu dere yatağına yapılan birçok ev selden etkilenmiştir. Olay sonrasında bir vatandaş evleri dere yatağına yapan kişileri suçlayarak “Dere yatağına ev yapılırsa sonucu böyle olur.” demiştir.

Bu olayla ilgili vatandaşın yaptığı yorumdaki yanlışlık hangi seçenekte verilmiştir?

- A) Olaya gerçekçi yaklaşmıştır.
B) Olayı tek nedene bağlamıştır.
C) Olayın çok boyutluluğunu görerek yorum yapmıştır.
D) Olay gerçekleşmeden yorum yapmıştır.

8. Aşağıdaki olaylardan hangisi daha fazla insanı etkileyen niteliktedir?

- A) Trafik kazası
B) Çığ düşmesi
C) Deprem
D) Düğün töreni

7. 5. sınıfa başlayan Elif yeni bir okula kayıt oldu. Yeni okulda Elif’in arkadaşları, öğretmenleri, dersleri, kitapları tamamen değişmişti. Elif’in yeni okuluna alışması biraz zaman aldı. Çünkü birçok değişikliği aynı anda kabullenmesi kolay olmadı.

Elif’in yaşadığı bu durum olayların hangi özelliğini yansıtmaktadır?




- A) Çok boyutlu olmasını
B) Sebeplerinin farklı olmasını
C) Hızlı bir şekilde olup bitmesini
D) Herkesi aynı şekilde etkilemesini

- 9.

		D / Y
I.	Olaylar gerçekleşmeden önce bilenebilir.	
II.	Aynı olayların sonuçları farklı olabilir.	
III.	Olaylar insanları aynı şekilde etkiler.	
IV.	Olaylardan sadece olayı gerçekleştiren kişiler etkilenir.	

Verilen bilgiler doğru - yanlış olarak kodlandığında hangi seçeneğe ulaşılır?

- A) D - Y - D - Y
B) Y - D - D - Y
C) Y - D - Y - D
D) Y - D - Y - Y

1.  Bir kimseye, yaşadığı toplumda adil şekilde dağıtılmış yetki ?
-  Bir kimsenin kendi davranışlarının sonuçlarını üstlenmesi ?
-  Bir kimsenin içinde yer aldığı gruptaki görevi ?

Yukarıdaki eşletirme etkinliğinde “?” ile gösterilen yerlere sırasıyla hangi kavramlar gelmelidir?

- | | ★ | ■ | ● |
|----|------------|------------|------------|
| A) | Hak | Sorumluluk | Rol |
| B) | Sorumluluk | Hak | Rol |
| C) | Rol | Hak | Sorumluluk |
| D) | Rol | Sorumluluk | Hak |

2. Kurumlar uzun süreli gruplardır. Gruplar ise barınmak, yardımlaşmak, eğlenmek, para kazanmak, spor yapmak ve eğitim almak gibi bazı amaçlar doğrultusunda kurulurlar.

Bu tanıma göre aşağıdakilerden hangisi yardımlaşma amacı gütmeyen bir kurumdur?

- A)  B) 
- C)  D) 

3. Aşağıdakilerden hangisi 12 yaşındaki Emre'nin rollerinden biri olamaz?

- A) Okulun temizlik görevlisi
B) Anne ve babasının oğlu
C) Evin en küçük çocuğu
D) Okulunun öğrencisi

4. Hayatımız boyunca çeşitli haklara sahip olarak yaşarız. Ancak haklarımız aynı zamanda bazı sorumlulukları da üstlenmemizi gerektirir.

Buna göre aşağıda verilen hak ve sorumluluk eşleştirmelerinden hangisinde hata yapılmıştır?


- | Hak | Sorumluluk |
|--|--|
| A) Okula gitme, eğitim alma hakkı | Derslerime çalışma, okula zamanında gelip gitme, okul kurallarına uyma |
| B) Oyun oynama hakkı | Oyunların kurallarına uyararak, arkadaşlarımızla uyum içinde oynama |
| C) Müzik dinleme hakkı | İstedığımız yerde istediğimiz zamanda müzik dinleme |
| D) Sağlık hizmetinden yararlanabilme hakkı | Sağlıklı yaşam için gerekli önlemleri alma |

5.

Ortak amaç taşımayan topluluklar grup olarak tanımlanamaz.

Bu tanıma göre aşağıdakilerden hangisi bir grup olamaz?

A)



Voleybol takımı

B)



5/B sınıfı

C)



Sokakta yürüyen insanlar

D)



Satranç klübü

6. Aşağıdaki görsellerden hangisinde eğitimle ilgili sorumluluklarımızdan birisine yer verilmiştir?


A)



B)



C)



D)



7.

● Derslerine zamanında çalışmak

▲ Evin pazar, market alışverişini yapmak

■ Odasını temiz tutmak

★ Yemek hazırlamak

Yukarıda verilenlerden hangileri 5. sınıfa devam eden bir çocuğun sorumluluklarından değildir?

A) Yalnız ▲

B) ▲ ve ★

C) ▲ ve ★

D) ● ve ■

8.



Derviş Bey

Ben ailemin reisi, çocuklarımın babası, okulumda öğretmen, basketbol takımında oyun kurucuyum.

Buna göre Derviş Bey bu sözleriyle aşağıdakilerden hangisini vurgulamıştır?

A) Farklı gruplar içinde farklı rollerinin olduğunu

B) Rollerinde zaman içerisinde değişim olduğunu

C) Farklı grupların kişilere benzer sorumluluklar yüklediğini

D) Haklarımızdan kaynaklanan çeşitli sorumluluklarımızın olduğunu

1. Aşağıdaki örgütlerden hangisi Birleşmiş Milletler Teşkilatı altında çocuk hakları ile ilgili dünya çapında faaliyet göstermektedir?



A)



Unicef

B)



Unesco

C)



Unep

D)



WHO

2. Ülkemizde ve dünyada sözleşmelerle ve kanunlarla çocukların hakları korunmuş ve onlara birçok yeni hak verilmiştir.

Buna göre aşağıdakilerden hangisi çocuklara verilen haklar arasında yer almaz?

- A) Eğitim almak
B) Seçimlerde oy kullanmak
C) Düşüncelerini özgürce ifade etmek
D) Sağlıklı bir çevrede yaşamak

3.



Benim adım Dilan, ailem pamuk tarlasında çalışıyor. Aileme yardım etmem gerekiyor. Bu yüzden bende pamuk tarlasına gidiyorum. Yaşım 13 olmasına rağmen bana da yetişkinlere verilen ücret veriliyor. Aile bütçeme böylece katkıda bulunuyorum.

Dilan'ın anlatımına bakılarak onunla ilgili aşağıdaki bilgilerden hangisi söylenebilir?

- A) Eğitim hakkı kısıtlanmıştır.
B) Çalışma yaşına gelmiştir.
C) Başarılı bir öğrencidir.
D) Çalışarak para kazanması kanunlara uygundur.

4.

Ülkemizde 18 yaşına gelmemiş olan bireyler kanunlar önünde çocuk olarak sayılırlar. Bu nedenle 18 yaşından küçükler bazı haklarını daha sonra elde ederler.

Buna göre aşağıdaki haklardan hangisi 18 yaşına gelince kullanılabilir?

- A) Eğitim alma hakkı
B) Seçme ve seçilme hakkı
C) Yaşama hakkı
D) İletişim hakkı

5. Anne ve babasını kaybetmiş ya da devlet tarafından koruma altına alınmış çocuklarımıza hangi kurum sahip çıkarak ihtiyaçlarını karşılar, haklarını korur?




7.



Çocuk Hakları Sözleşmesine göre kaç yaşına kadar çocuk kabul edilmektedir?

Serhat Öğretmen'in sorusunu aşağıdaki öğrencilerden hangisi doğru yanıtlamıştır?



6. Ülkemizde çocuk haklarının ihlal edildiği durumlar yaşanmaktadır.

Aşağıdakilerden hangisi bu bilgiye kant olarak gösterilemez?

- A) Trafik ışıklarında mendil satan çocuklar
B) Sokaklarda çöp toplayan çocuklar
C) Makine fabrikasında staj yapan öğrenciler
D) Okuldan sonra sanayide çalışan 5. sınıf öğrencisi


8.



Yukarıda verilen haklardan kaç tanesi çocuk hakları kapsamına girer?

- A) Bir B) İki
C) Üç D) Dört


- A. Aşağıda içinde yer aldığımız bazı grupların görselleri verilmiştir. Bu gruplar içindeki rolümüze göre sorumluluklarımızı altlarındaki boşluğa yazalım.



Rolüm: Öğrenci

Sorumluluklarım:


.....



Rolüm: Pasör

Sorumluluklarım:


.....



Rolüm: Ailenin en büyük çocuğu

Sorumluluklarım:

.....









Rolüm: Oyunculuk

Sorumluluklarım:

.....

B. Aşağıda çeşitli meslekler verilmiştir. Bu mesleklerin sorumluluklarını yanlarına yazınız.

Rol	Sorumlulukları
 Öğretmen	<ul style="list-style-type: none"> • Öğrencilerine ders anlatmak ve bilgi vermek. • Okul ve sınıf kurallarını öğretmek. • Derslerine zamanında girmek. • Öğrencilerin sorunlarıyla ilgilenmek. • Duyarlı öğrenciler yetiştirmek.
 Doktor	
 Postacı	
 Polis	
 Avukat	
 Şoför	

1. Sümerler;

- Site devletleri hâlinde yaşamışlardır.
- Yazıyı ilk kez kullanmışlardır.

Bu bilgilere göre Sümerlerle ilgili;

- Siyasi birlik yoktur.
- Tarihî çağlar için önemli bir adım atmışlardır.
- Anadolu'ya hâkim olmuşlardır.

yargılarından hangilerine ulaşılabilir?

- A) Yalnız I. B) I ve II.
C) II ve III. D) I, II ve III.

2.



Çocuklar! Mezopotamya'nın coğrafi yapısından dolayı taş malzemenin bulunmaması nasıl bir etki oluşturmuştur?

Salih Öğretmen'in sorusunu aşağıdaki öğrencilerden hangisi doğru yanıtlamıştır?

- A) Mezopotamya mimarisinden günümüze fazla bir eser ulaşmamıştır.
- B) Dinî inanışları gelişmemiştir.
- C) Bilimsel çalışmalar yapılmamıştır.
- D) Devletlerarası savaşlar uzun sürmemiştir.

İşleyen Zeka Yayınları

3. Çivi yazısı, Asurlu tüccarların Kayseri Kültepe'deki ticaret etkinlikleri sonucu Anadolu'ya taşınmıştır.

Bu bilgiye bakılarak aşağıdakilerden hangisi söylenebilir?

- A) Yazıyı ilk kez Anadolu medeniyetleri bulmuştur.
- B) Anadolu medeniyetleri ile Mezopotamya medeniyetleri etkileşim hâlinindedirler.
- C) Anadolu'daki bilimsel gelişmeler daha hızlıdır.
- D) Mezopotamya uygarlıkları eğitim alanında daha ileri düzeydedirler.

4. **Aşağıdakilerden hangisi tarihî çağların başlamasında etkili olmuştur?**

- A) Sümerlerin yazıyı bulmaları
- B) Lidyalıların Kral Yolu'nu yapmaları
- C) Sümerlerin tekerleği bulmaları
- D) Sümerlerin "Zigguratlar" yapmaları

5. **Sümerlerin aşağıdaki özelliklerinden hangisi astronomi alanında çalışmalar yaptıklarını göstermektedir?**

- A) Şehir devletleri hâlinde yaşamışlardır.
- B) Tekerleği ilk kez kullanmışlardır.
- C) Ay ve Güneş tutulmasını hesaplamışlardır.
- D) Çivi yazısını bulmuşlardır.

6. Asurlular, ticaret vasıtasıyla Anadolu'ya yazıyı getirmişler ve Anadolu'da birçok yazılı tablet bırakmışlardır.

Bu bilgilere göre Asurlularla ilgili;

- I. Anadolu'da yazılı eserler bırakmışlardır.
- II. Ekonomik hayatta etkili olmuşlardır.
- III. Tarımla uğraşmışlardır.

yargılarından hangilerine ulaşılabilir?

- A) Yalnız I. B) I ve II.
C) II ve III. D) I, II ve III.

7. Sümerler tekerleği ilk kez bulduktan sonra farklı alanlarda kullanmışlardır. Bazen eşya taşıma amaçlı, bazen de savaşlarda at arabası olarak kullanmışlardır.

Verilen bilgilere göre tekerlekle ilgili;

- I. Yazının icadını kolaylaştırmıştır.
- II. İnsanlara yardımcı olmuştur.
- III. Hayatı kolaylaştırmıştır.

yargılarından hangileri söylenebilir?

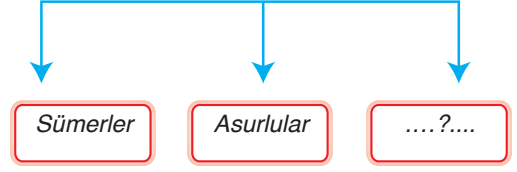
- A) Yalnız I. B) I ve II.
C) II ve III. D) I, II ve III.

8. • En önemli kralları Hammurabi'dir.
• Tarihte ilk anayasayı yaptılar.
• Dünya'nın yedi harikasından biri olan Asma Bahçeleriyle ünlüdürler.

Yukarıdaki özellikleri verilen medeniyet hangisidir?

- A) Asurlular B) Hititler
C) Sümerler D) Babiller

9. *Mezopotamya Uygarlıkları*



Verilen şemada (?) bırakılan yere aşağıdakilerden hangisi yazılmalıdır?

- A) Hititler B) Frigler
C) İyonyalılar D) Babiller

10. Asurlular, Ninova'da dünyanın ilk kütüphanesini kurarak Mezopotamya'daki kitapları bu kütüphanede toplamaya çalışmışlardır.

Asurluların bu faaliyetleriyle ilgili;

- I. Bilgi birikimini korumaya çalışmışlardır.
- II. Düşmanlara karşı iyi savaşmışlardır.
- III. Kanunlar hazırlamışlardır.

durumlarından hangileri söylenebilir?

- A) Yalnız I. B) Yalnız III.
C) I ve II. D) II ve III.

11. **Mezopotamya uygarlıklarıyla ilgili aşağıdaki öğrencilerden hangisinin söylediği doğru değildir?**

- A)  Sümerlerde, Patesi denen rahip krallar ülkeyi yönetiyordu.
- B)  Hammurabi Anayasası kısaca kısas olan sert kanunlardan oluşmaktaydı.
- C)  Asurluların yaşadığı coğrafya tarıma müsait olmayınca ticaretle uğraşmışlardır.
- D)  İlk kez tekerleği Babiller kullanmışlardır.

1. Anadolu tarih öncesi devirlerden itibaren insanların gelip yerleştikleri bir yer olmuştur. Anadolu, iklimiyle, yeryüzü şekilleriyle tarım ve hayvancılık gibi ekonomik faaliyetlere elverişliydi.

Verilen bilgilere göre;

- I. Anadolu yerleşmeye uygun bir alandır.
II. Anadolu'da ekonomik faaliyetler çeşitlidir.
III. İlk tarihî çağlar Anadolu'da başlamıştır.

yargılarından hangilerine ulaşılabilir?

- A) Yalnız I. B) I ve II.
C) II ve III. D) I, II ve III.

2. Tarihte bilinen ilk yazılı antlaşmayı hangi Anadolu medeniyeti yapmıştır?

- A) Frigler B) İyonyalılar
C) Hititler D) Urartular

3.



Çocuklar! Urartuların başkenti neresidir?

Aslı Öğretmen'in sorusunu aşağıdaki öğrencilerden hangisi doğru yanıtlamıştır?

- A) Tuşpa
- B) Hattuşaş
- C) Sardes
- D) Gordion

4. Frig Kralı Gordies halkı ile gelip Ankara'ya yerleşmiş. Kurduğu şehre de Gordion adını vermiş. Zamanla Frigler gelişmiş, büyük bir devlet olmuş tarım, hayvancılık, madencilik, dokumacılık, mobilyacılık gibi alanlarda ustalaşmışlardır.

Verilen bilgilere bakılarak Friglerle ilgili;

- I. Zaman içerisinde güçlenmişlerdir.
II. Farklı ekonomik faaliyetlerde bulunmuşlardır.
III. Yazılı kanunlar yapmışlardır.

yargılarından hangilerine ulaşılabilir?

- A) Yalnız I. B) I ve II.
C) II ve III. D) I, II ve III.

5. Tarihte parayı ilk kez bulup kullanan medeniyet aşağıdakilerden hangisidir?

- A) Hititler B) Urartular
C) Frigler D) Lidyalılar

6. Lidyalıların aşağıdaki özelliklerinden hangisi ticarete geliştiklerini gösterir?

- A) Verimli topraklara yerleşmiş olmaları
B) Batı Anadolu'da kurulmuş olmaları
C) Mimari yapılar oluşturmaları
D) Kral Yolu'nu yapmaları